

Nazwa kwalifikacji: **Projektowanie i wytwarzanie prostych wyrobów odzieżowych**

Oznaczenie kwalifikacji: **AU.03**

Wersja arkusza: **SG**

Czas trwania egzaminu: **60 minut**

AU.03-SG-20.06

EGZAMIN POTWIERDZAJĄCY KWALIFIKACJE W ZAWODZIE

Rok 2020

CZĘŚĆ PISEMNA

**PODSTAWA PROGRAMOWA
2017**

Instrukcja dla zdającego

1. Sprawdź, czy arkusz egzaminacyjny zawiera 9 stron. Ewentualny brak stron lub inne usterki zgłoś przewodniczącemu zespołu nadzorującego.
2. Do arkusza dołączona jest KARTA ODPOWIEDZI, na której w oznaczonych miejscach:
 - wpisz oznaczenie kwalifikacji,
 - zamaluj kratkę z oznaczeniem wersji arkusza,
 - wpisz swój numer PESEL*,
 - wpisz swoją datę urodzenia,
 - przyklej naklejkę ze swoim numerem PESEL.
3. Arkusz egzaminacyjny zawiera test składający się z 40 zadań.
4. Za każde poprawnie rozwiązane zadanie możesz uzyskać 1 punkt.
5. Aby zdać część pisemną egzaminu musisz uzyskać co najmniej 20 punktów.
6. Czytaj uważnie wszystkie zadania.
7. Rozwiązania zaznaczaj na KARCIE ODPOWIEDZI długopisem lub piórem z czarnym tuszem/atramentem.
8. Do każdego zadania podane są cztery możliwe odpowiedzi: A, B, C, D. Odpowiada im następujący układ krerek w KARCIE ODPOWIEDZI:

A	B	C	D
---	---	---	---

9. Tylko jedna odpowiedź jest poprawna.
10. Wybierz właściwą odpowiedź i zamaluj kratkę z odpowiadającą jej literą – np., gdy wybrałeś odpowiedź „A”:

<input checked="" type="checkbox"/>	B	C	D
-------------------------------------	---	---	---

11. Staraj się wyraźnie zaznaczać odpowiedzi. Jeżeli się pomylisz i błędnie zaznaczysz odpowiedź, otocz ją kółkiem i zaznacz odpowiedź, którą uważasz za poprawną, np.

<input checked="" type="checkbox"/>	B	C	<input checked="" type="checkbox"/>
-------------------------------------	---	---	-------------------------------------

12. Po rozwiązaniu testu sprawdź, czy zaznaczyłeś wszystkie odpowiedzi na KARCIE ODPOWIEDZI i wprowadziłeś wszystkie dane, o których mowa w punkcie 2 tej instrukcji.

Pamiętaj, że oddajesz przewodniczącemu zespołu nadzorującego tylko KARTĘ ODPOWIEDZI.

Powodzenia!

* w przypadku braku numeru PESEL – seria i numer paszportu lub innego dokumentu potwierdzającego tożsamość

Zadanie 1.

Tkanina bawełniana gęsto tkana, z grubych mocnych nitek, stosowana między innymi do produkcji ubrań roboczych, to

- A. drelich.
- B. szyfon.
- C. flausz.
- D. batyst.

Zadanie 2.

Która z wymienionych tkanin charakteryzuje się dobrą sprężystością i higroskopijnością oraz wykazuje zdolność do spłśniania się?

- A. Lniana.
- B. Wełniana.
- C. Jedwabna.
- D. Bawełniana.

Zadanie 3.

Na letnią przewiewną miękką bluzkę krawcowa zaproponuje klientce

- A. popelinę.
- B. muślin.
- C. kreton.
- D. batyst.

Zadanie 4.

Płaski wyrób włókienniczy zbudowany z wzajemnie ze sobą połączonych oczek tworzących kolumnienki i rzędkie to

- A. tkanina.
- B. dzianina.
- C. włóknina.
- D. przędzina.

Zadanie 5.

Tkanina bawełniana o strukturze runowej, na powierzchni której występują prążki, to

- A. adamaszek.
- B. sztruks.
- C. krepa.
- D. atłas.

Zadanie 6.


Maszynę szyjącą ścięciem łańcuszkowym stosuje się do łączenia elementów sukienki damskiej wykonanej z

- A. tkaniny wełnianej.
- B. tkaniny bawełnianej.
- C. dzianiny elastycznej.
- D. materiału powlekanego.

Zadanie 7.

Które pomiary krawieckie ciała są niezbędne do wykonania form spódnicy damskiej przedstawionej na rysunku?

- A. ot, obt, ZWo
- B. opx, obt, ZWo
- C. SyTy, ot, ZKo
- D. ZUo, ZTv, obt



Zadanie 8.

Wymiar opx – obwód klatki piersiowej – jest niezbędny do wykonania konstrukcji

- A. bluzki.
- B. spodni.
- C. szortów.
- D. spódnicy.

Zadanie 9.

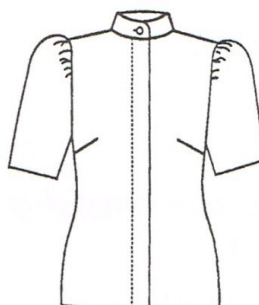
Która z przedstawionych na rysunku bluzek ma zapięcie typu plisa kryta?



A.



B.



C.

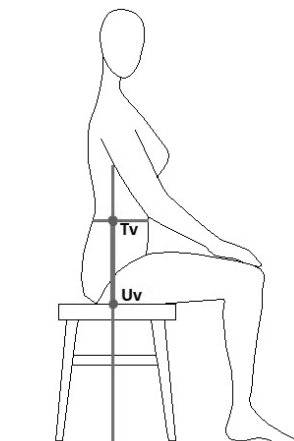


D.

Zadanie 10.

Wymiar przedstawiony na rysunku, niezbędny do wykonania form spodni damskich, to

- A. długość pleców.
- B. głębokość krocza.
- C. szerokość barków tyłu.
- D. długość kończyny dolnej.



Zadanie 11.

Który materiał i dodatki krawieckie można zastosować do wykonania krótkiego żakietu damskiego, którego model przedstawiono na rysunku?

- A. Flausz, podszewka, płótno bawełniane, guziki.
- B. Elana, sztywnik krawiecki, podszewka, klamry.
- C. Krepa, pianka poliuretanowa, podszewka, guziki.
- D. Aksamit, wkład usztywniający, podszewka, guziki.



Zadanie 12.

Który kołnierz jest modelowany na podstawie wykreślonego kąta prostego?

- A. Szalowy.
- B. Marynarski.
- C. Okrągły bebe.
- D. Koszulowy na stojce.

Zadanie 13.

Jak nazywa się wyrób bielizniarski, który przedstawiono na rysunku?

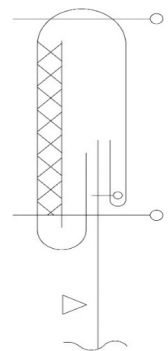
- A. Top.
- B. Halka.
- C. Stanik.
- D. Gorset.



Zadanie 14.

Wskaż prawidłową kolejność wykonywania czynności podczas doszywania paska do spódnicy damskiej zgodnie z przedstawionym rysunkiem instruktażowym.

- A. Obrzucenie paska, wszycie paska, stębnowanie paska.
- B. Obrzucenie paska, zaprasowanie paska, wszycie paska.
- C. Wszycie paska, dwukrotne stębnowanie paska, zaprasowanie paska.
- D. Zaprasowanie paska, wszycie paska, dwukrotne stębnowanie paska.



Zadanie 15.

Do jednoczesnego wykonania dwóch równoległych szwów w spodniach sportowych stosuje się maszynę

- A. stębnową zygzakową.
- B. stębnową jednoigłową.
- C. łańcuszkową dwuigłową.
- D. łańcuszkową jednoigłową.

Zadanie 16.

Którą tkaninę zastosuje krawcowa jako zaparzaczkę?

- A. Lnianą.
- B. Wełnianą.
- C. Jedwabną.
- D. Stilonową.

Zadanie 17.

Dobierz tkaninę i dodatki krawieckie odpowiednie do przedstawionego na rysunku ubioru na górną część ciała dla kobiet.

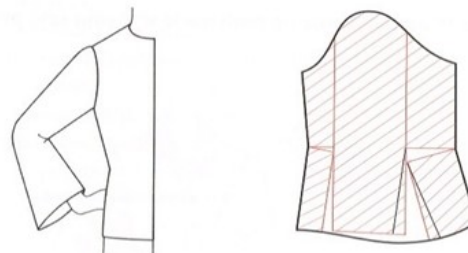
- A. Nylon, zamek błyskawiczny, podszywka, taśma gumowa.
- B. Welur, nici, zamek błyskawiczny, wkład ocieplający.
- C. Tropik, taśma gumowa, guziki, nici, podszywka.
- D. Drelich, taśma rzep, nici, podszywka.



Zadanie 18.

Na rysunku przedstawiono modelowanie formy rękawa długiego

- A. poszerzonego na linii dołu.
- B. poszerzonego od linii łokcia do dołu.
- C. marszczonego na linii wszycia do pachy.
- D. z kontrafałdami na linii wszycia do pachy.



Zadanie 19.

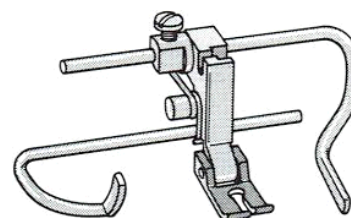
Maszynę fastrygówkę stosuje się do

- A. wykonywania ściągów mocujących.
- B. trwałego łączenia elementów odzieży.
- C. chwilowego łączenia elementów wyrobu.
- D. zabezpieczenia brzegów przed strzępieniem.

Zadanie 20.

Przyrząd pomocniczy przedstawiony na rysunku to

- A. linijka magnetyczna.
- B. linijka odległościowa.
- C. stopka do wszycia zamka krytego.
- D. linijka do wykonywania szwów równoległych.



Zadanie 21.

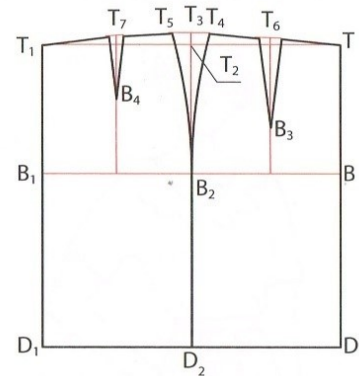
Oznaczenie i wykonanie dziurek, przyszycie guzików w wyrobach odzieżowych, to etap

- A. przygotowania do II miary.
- B. wykonywania montażu.
- C. nanoszenia poprawek.
- D. wykończania wyrobu.

Zadanie 22.

Przedstawiona na rysunku siatka konstrukcyjna jest podstawą do modelowania form

- A. spodni.
- B. rękawa.
- C. spódnicy.
- D. kołnierza.



Zadanie 23.

Pracę na maszynie szwalniczej, po założeniu odpowiednich nici, krawcowa rozpocznie od

- A. demontażu mechanizmu chwytacza.
- B. wykonania próby szycia.
- C. usunięcia ochroniacza.
- D. wymiany igły.

Zadanie 24.

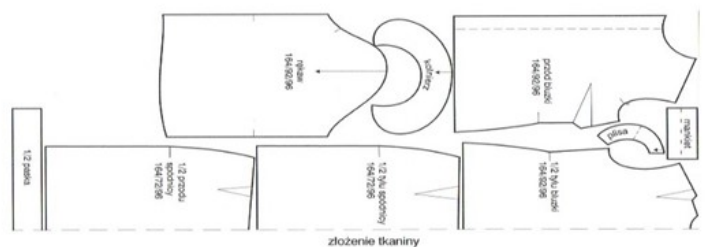
Którą maszynę należy zastosować do podwinięcia dołu w sukience z dzianiny bawełnianej?

- A. Podszywarękę.
- B. Stębnówkę płaską.
- C. Overlock trzynitkowy.
- D. Obrębiarkę dwuigłową.

Zadanie 25.

Który rodzaj układu szablonów został zastosowany w układzie przedstawionym na rysunku?

- A. Jednokierunkowy, asymetryczny.
- B. Jednokierunkowy, symetryczny.
- C. Dwukierunkowy, asymetryczny.
- D. Dwukierunkowy, łączony.



Zadanie 26.

Przedstawiony na rysunku wyrób odzieżowy powstały w wyniku połączenia bluzki ze spodniami to

- A. szmizjerka.
- B. kombinezon.
- C. sukienka wizytowa.
- D. sukienka wieczorowa.



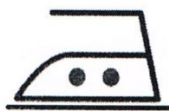
Zadanie 27.

Przymiarka w krawiectwie miarowym oznacza


- A. zdjęcie wymiarów z figury klienta.
- B. wykonanie pomiarów indywidualnych.
- C. wykonanie przeróbki gotowego wyrobu.
- D. dopasowanie szytego wyrobu do figury klienta.

Zadanie 28.

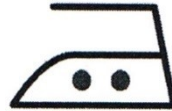
Który ze znaków informacyjnych dotyczących warunków prasowania należy umieścić na wszywce przeznaczonej dla bluzki damskiej z jedwabiu naturalnego?



A.



B.



C.



D.

Zadanie 29.


Zbiór dokumentów określających cechy wyrobu odzieżowego to dokumentacja

- A. organizacyjno-produkcyjna.
- B. techniczno-technologiczna.
- C. statystyczna.
- D. zarobkowa.

Zadanie 30.

Znak informacyjny dotyczący sposobu prasowania, przedstawiony na rysunku, należy umieścić na wszywce wyrobu wykonanego z

- A. jedwabiu.
- B. flaneli.
- C. wełny.
- D. kory.



Zadanie 31.

Ile wyniesie norma zużycia tkaniny bawełnianej o szerokości 150 cm, potrzebnej krawcowej do uszycia prostej sukienki o długości 90 cm, z rękawem o długości 50 cm?

- A. 130 cm
- B. 154 cm
- C. 190 cm
- D. 209 cm

Zadanie 32.

Do podwinięcia dołu spódnicy wełnianej ścięciem niewidocznym po prawej stronie wyrobu należy zastosować

- A. pikówkę.
- B. stębnówkę.
- C. fastrygówkę.
- D. podszywarę.

Zadanie 33.

Klientka zamówiła w zakładzie usługowym płaszcz wiosenny z tkaniny o szerokości 150 cm. Które parametry wyrobu mają wpływ na wielkość zużycia tej tkaniny?

- A. Wzrost klientki i obwód bioder.
- B. Obwód bioder i długość rękawa.
- C. Wzrost klientki i długość płaszcza.
- D. Długość płaszcza i długość rękawa.

Zadanie 34.

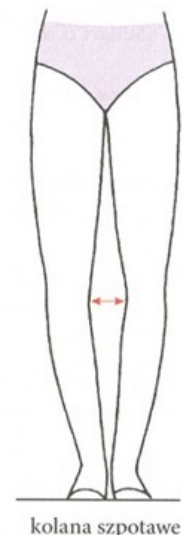
Aby usunąć przyczynę zrywania się nici dolnej na maszynie szwalniczej podczas szycia, można między innymi

- A. zwiększyć docisk sprężynki regulacyjnej na bębnie.
- B. zmniejszyć naprężenie nici dolnej.
- C. wymienić ostrze chwytacza.
- D. dobrać właściwą igłę.

Zadanie 35.

Który fason spodni zaproponuje krawcowa klientce z typem nóg przedstawionym na rysunku?

- A. Leginsy.
- B. Bermudy.
- C. Typu dżinsy z wąskimi nogawkami.
- D. Podstawowe z nogawkami poszerzonymi na linii kolan.



Zadanie 36.

Krawcowa w celu otrzymania formy modelowej upięła materiał na odpowiednio przygotowanym manekinie. Jest to modelowanie

- A. przestrzenne.
- B. technologiczne.
- C. na podstawie siatki konstrukcyjnej.
- D. na podstawie formy konstrukcyjnej.

Zadanie 37.

Sprawdzenie ogólnego wyglądu sukienki na figurze klientki, układania się kołnierza, kierunku i miejsca wfastrygowania rękawa, układania się linii dołu, to czynności wykonywane podczas

- A. kontroli jakości.
- B. wykończenia wyrobu.
- C. przygotowania I miary.
- D. przeprowadzania II miary.

Zadanie 38.

Do oznaczania poprawek podczas przeprowadzania I miary sukienki z jasnej wiskozy krawcowa może zastosować

- A. upinanie szpilkami.
- B. wciąganie fastrygi.
- C. równanie nożycami.
- D. kreślenie znaków kredą.

Zadanie 39.

Klientka złożyła zamówienie na wykonanie bluzki wieczorowej z tkaniny jedwabnej. Jakie wykończenie podkroju szyi w tej bluzce powinna zaproponować krawcowa?

- A. Golf.
- B. Kryzę.
- C. Stójkę.
- D. Wolant.

Zadanie 40.

Przed oddaniem klientce gotowej sukienki należy sprawdzić jakość wykonania poszczególnych elementów, ogólny wygląd estetyczny oraz czy sukienka dobrze układa się na

- A. manekinie.
- B. wieszaku.
- C. figurze.
- D. stole.