

Nazwa kwalifikacji: **Wykonywanie prac geodezyjnych związanych z katastrzem i gospodarką  
nieruchomościami**

Oznaczenie kwalifikacji: **B.36**

Wersja arkusza: **SG**

**B.36-SG-21.01**

Czas trwania egzaminu: **60 minut**

## **EGZAMIN POTWIERDZAJĄCY KWALIFIKACJE W ZAWODZIE**

**Rok 2021**

**CZĘŚĆ PISEMNA**

**PODSTAWA PROGRAMOWA  
2012**

### **Instrukcja dla zdającego**

1. Sprawdź, czy arkusz egzaminacyjny zawiera 15 stron. Ewentualny brak stron lub inne usterki zgłoś przewodniczącemu zespołu nadzorującego.
2. Do arkusza dołączona jest KARTA ODPOWIEDZI, na której w oznaczonych miejscach:
  - wpisz oznaczenie kwalifikacji,
  - zamaluj kratkę z oznaczeniem wersji arkusza,
  - wpisz swój numer PESEL\*,
  - wpisz swoją datę urodzenia,
  - przyklej naklejkę ze swoim numerem PESEL.
3. Arkusz egzaminacyjny zawiera test składający się z 40 zadań.
4. Za każde poprawnie rozwiązane zadanie możesz uzyskać 1 punkt.
5. Aby zdać część pisemną egzaminu musisz uzyskać co najmniej 20 punktów.
6. Czytaj uważnie wszystkie zadania.
7. Rozwiązania zaznaczaj na KARCIE ODPOWIEDZI długopisem lub piórem z czarnym tuszem/atramentem.
8. Do każdego zadania podane są cztery możliwe odpowiedzi: A, B, C, D. Odpowiada im następujący układ krerek w KARCIE ODPOWIEDZI:

A	B	C	D
---	---	---	---

9. Tylko jedna odpowiedź jest poprawna.
10. Wybierz właściwą odpowiedź i zamaluj kratkę z odpowiadającą jej literą – np., gdy wybrałeś odpowiedź „A”:

<input checked="" type="checkbox"/>	B	C	D
-------------------------------------	---	---	---

11. Staraj się wyraźnie zaznaczać odpowiedzi. Jeżeli się pomylisz i błędnie zaznaczysz odpowiedź, otocz ją kółkiem i zaznacz odpowiedź, którą uważasz za poprawną, np.

<input checked="" type="checkbox"/>	B	C	<input checked="" type="checkbox"/>
-------------------------------------	---	---	-------------------------------------

12. Po rozwiązaniu testu sprawdź, czy zaznaczyłeś wszystkie odpowiedzi na KARCIE ODPOWIEDZI i wprowadziłeś wszystkie dane, o których mowa w punkcie 2 tej instrukcji.

**Pamiętaj, że oddajesz przewodniczącemu zespołu nadzorującego tylko KARTĘ ODPOWIEDZI.**

***Powodzenia!***

\* w przypadku braku numeru PESEL – seria i numer paszportu lub innego dokumentu potwierdzającego tożsamość



#### Zadanie 4.

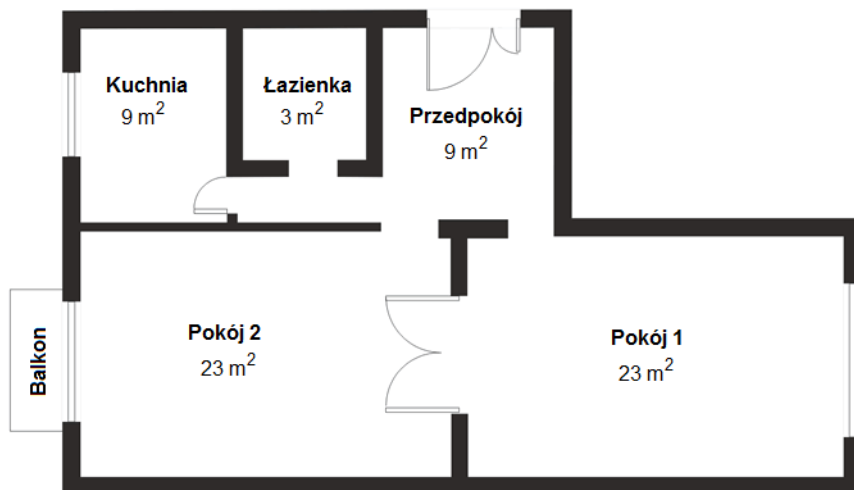
W obrębie, w którym ostatnim występującym numerem działki jest 403/1, połączono dwie sąsiadujące ze sobą działki ewidencyjne o numerach 22/1 i 22/2. Powstała działka otrzyma numer

- A. 22
- B. 404
- C. 22/3
- D. 403/2

#### Zadanie 5.

Ile izb należy wpisać w kartotece zakładanej dla lokalu, którego rzut przedstawiono na rysunku?

- A. 2 izby.
- B. 3 izby.
- C. 4 izby.
- D. 5 izb.



**Uwaga!** Izba to pomieszczenie w mieszkaniu oddzielone od innych pomieszczeń stałymi ścianami sięgającymi od podłogi do sufitu, z bezpośrednim oświetleniem dziennym i o powierzchni nie mniejszej niż 4 m<sup>2</sup>.

Izbami są pokoje oraz kuchnie spełniające powyższe kryteria. Inne pomieszczenia w mieszkaniu, takie jak: przedpokój, hol, łazienka, ubikacja, spiżarnia, schowek, garderoba, alkowa, obudowana weranda, ganek, są pomieszczeniami pomocniczymi i nie uznaje się ich za izby.

#### Zadanie 6.

Który kod cyfrowy jest poprawnie zapisanym identyfikatorem działki ewidencyjnej?

- A. 10.0611.5\_0011.574\_4
- B. 100611\_5.0011.574/4
- C. 100611\_5.574/4
- D. 100611\_5.574.4

#### Zadanie 7.

W bazie danych ewidencyjnych użytki ekologiczne będące pastwiskiem oznaczane są

- A. E-R
- B. R-E
- C. E-Ps
- D. Ps-E

### Zadanie 8.

Którego z wymienionych podmiotów **nie wykazuje się** w ewidencji gruntów i budynków?

- A. Właściciela nieruchomości.
- B. Użytkownika wieczystego nieruchomości.
- C. Osoby, której przysługuje lokatorskie spółdzielcze prawo do lokalu.
- D. Jednostki organizacyjnej sprawującej trwały zarząd nieruchomością.

### Zadanie 9.

W której tabeli przedstawiono spis działek ewidencyjnych uporządkowany zgodnie z wymaganiami dotyczącymi sporządzania wykazów działek ewidencyjnych?

Arkusze	Nr działki	Jednostka rejestrowa gruntów	Powierzchnia działki (ha)
1	1	11	0,3659
1	2	26	0,0792
1	3	24	0,0184
1	4	15	0,6612
1	5	23	0,3240

A.

Arkusze	Nr działki	Jednostka rejestrowa gruntów	Powierzchnia działki (ha)
1	1	11	0,3659
1	4	15	0,6612
1	5	23	0,3240
1	3	24	0,0184
1	2	26	0,0792

B.

Arkusze	Nr działki	Jednostka rejestrowa gruntów	Powierzchnia działki (ha)
1	3	24	0,0184
1	2	26	0,0792
1	5	23	0,3240
1	1	11	0,3659
1	4	15	0,6612

C.

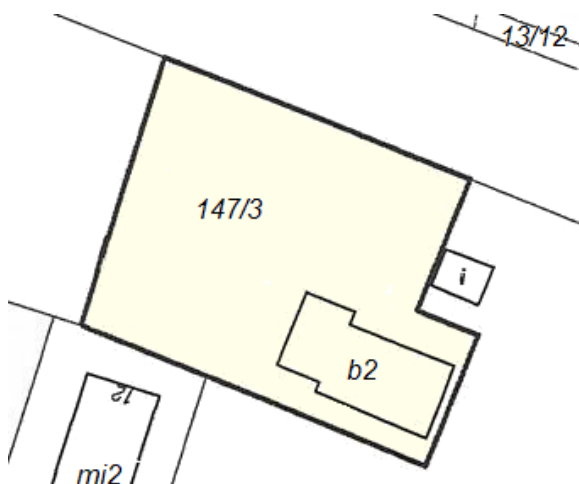
Arkusze	Nr działki	Jednostka rejestrowa gruntów	Powierzchnia działki (ha)
1	5	23	0,3240
1	4	15	0,6612
1	3	24	0,0184
1	2	26	0,0792
1	1	11	0,3659

D.

### Zadanie 10.

Obiekt budowlany zlokalizowany na działce 147/3 to budynek

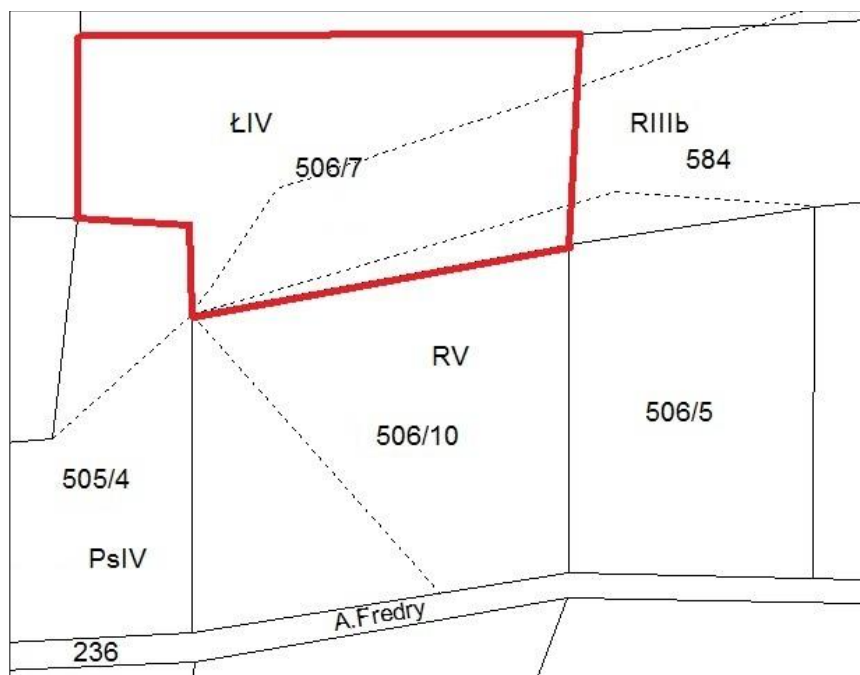
- A. biurowy.
- B. mieszkalny.
- C. gospodarczy.
- D. magazynowy.



### Zadanie 11.

Na podstawie zamieszczonego fragmentu opracowania geodezyjnego określ, które użytki gruntowe znajdują się w działce ewidencyjnej nr 506/7.

- A. PsIV, RV
- B. ŁIV, PsIV
- C. RIIIb, RV, ŁIV
- D. ŁIV, PsIV, RV



### Zadanie 12.

W którym dziale księgi wieczystej, prowadzonej dla nieruchomości służebnej, znajdują się informacje dotyczące służebności gruntowej?

- A. I
- B. II
- C. III
- D. IV

### Zadanie 13.

Dokumentem potwierdzającym prawo własności do nieruchomości jest

- A. zaświadczenie o płaceniu podatków.
- B. wypis z katastru nieruchomości.
- C. ustne oświadczenie właściciela.
- D. odpis z księgi wieczystej.

**Zadanie 14.**

**OZNACZENIE KSIĘGI WIECZYSTEJ**

<b>Rubryka 0.1 – Informacje podstawowe</b>			
Numer i nazwa pola		Treść pola	
1. Numer księgi			
2.	Oznaczenie wydziału		
	A: nazwa sądu	SĄD REJONOWY DLA WARSZAWY - MOKOTOWA	
	B: siedziba sądu	WARSZAWA	
	C: kod wydziału	WA2M	
	D: numer wydziału	VII	
E: nazwa wydziału	WYDZIAŁ KSIĄG WIECZYSTYCH		
Numer i nazwa pola		Indeks zmiany	Treść pola
3. Typ księgi			LOKAL STANOWIĄCY ODREBNĄ NIERUCHOMOŚĆ
<b>Rubryka 0.2 – Dane o założeniu księgi wieczystej</b>			
Numer i nazwa pola		Indeks zmiany	Treść pola
1. Stan w czasie założenia			NR 1 PO ODŁĄCZENIU LOKALU Z BUDYNKU WIELOMIESZKANIOWEGO NA NIERUCHOMOŚCI OPISANEJ W KSIĘDZE WIECZYSTEJ KW 1000 TU PRZENIESIONO
2. Chwila zapisania księgi			2006-01-04-12.24.21.
3. Chwila ujawnienia księgi			2006-01-09-10.18.08.
4. Data założenia dotychczasowej księgi wieczystej			2001-03-20

Zamieszczony fragment numerycznej księgi wieczystej jest prowadzony dla nieruchomości

- A. budynkowej.
- B. gruntowej.
- C. lokalowej.
- D. rolnej.

**Zadanie 15.**

UG-7429/406/64/79

**AKT WŁASNOŚCI ZIEMI**

Na podstawie art. 1 ust. 1 \*\*) ust. 2\*\*), art. 5 i 12 ustawy z dnia 26 października 1971 r. o uregulowaniu własności gospodarstw rolnych ( Dz. U. Nr 27, poz. 250)

**Naczelnik..... Gminy..... w .....Podlesiu.....**  
stwierdza, że Ob..... **Józef Mleczo**..... imiona rodziców .. **Adam.....Anna**  
ur. dnia .....**7.VII.1909** r.,..... zam. we ..... **wsi Wroniska 70**.....  
i jego żona Ob. ....**Amalia Mleczo** ..... z d. **Kapcia** .....  
imiona rodziców..... **Jan i Józefa**..... ur. dnia.... **26.V.1922** r.....  
zam. we wsi .....**Wroniska 70**, ..... stał(li) się z mocy samego prawa  
właścicielami- nieruchomości (działek) oznaczonych w ewidencji gruntów  
.....**wsi Wroniska**..... \*)  
nr .....**dz. ew. 193, 172, 161, 188, 187**.....  
o powierzchni .....**3,03**... ha położonych we .....**wsi Wroniska woj. tarnowskie**..  
- wraz z zabudowaniami- xxxxxxxxxxxxxxxxxxxxxxxxxxxxxxxx.  
Nabywanie własności nieruchomości następuje **nieodpłatnie**.

Od niniejszego aktu własności ziemi przysługuje odwołanie do Wojewódzkiej Komisji ds. Uwłaszczenia za pośrednictwem organu, który ten akt wydał, w terminie 14 dni od daty jego doręczenia.  
Akt własności ziemi, od którego nie wniesiono odwołania, jest ostateczny i stanowi podstawę do ujawnienia nowego stanu własności w księdze wieczystej oraz ewidencji gruntów.

...**Podlesie**....., dnia .....**14.VII.1979**.....r.

Objaśnienia dla wypełniającego druk- patrz Dz. Urz. Min. Roln. Z 1972 r. Nr 5, poz. 29  
R. Uru. 4/26/A, zam. 1486/14/PWH/Ww/CWD JZG. 1863/74. 207000 bl., a 100 k. A4

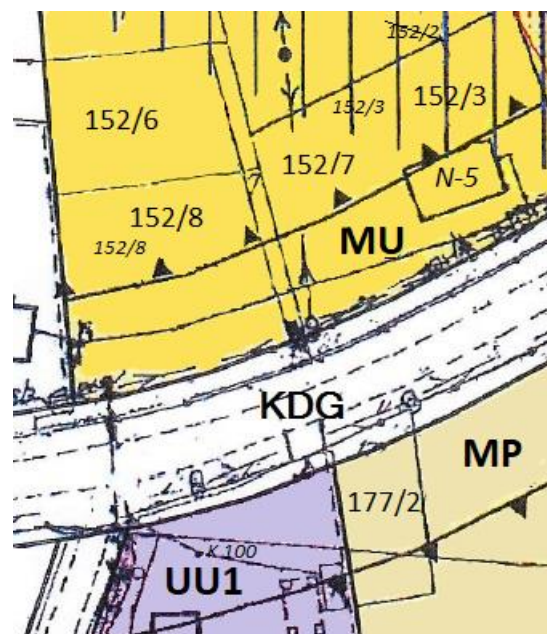
Na podstawie aktu własności ziemi określ tryb, w którym nastąpiło nabycie prawa własności przez Amalię i Józefa Mleczo.

- A. Nadania.
- B. Zamiany.
- C. Dziedziczenia.
- D. Wywłaszczenia.

### Zadanie 16.

Na podstawie fragmentu miejscowego planu zagospodarowania przestrzennego oraz legendy, określ przeznaczenie działki o numerze 152/8.

- A. Pod zabudowę usługową komercyjną.
- B. Pod zabudowę mieszkaniowo-usługową.
- C. Pod zabudowę mieszkaniową jednorodzinną.
- D. Pod zabudowę mieszkaniową o podwyższonym standardzie.



UU1	tereny zabudowy usługowej komercyjnej
MP	tereny zabudowy mieszkaniowej jednorodzinnej o podwyższonym standardzie
MU	tereny zabudowy wielofunkcyjnej, mieszkaniowo-usługowej
KDG	tereny tras i urządzeń komunikacji drogowej



**Zadanie 17.****WYPIS Z KARTOTEKI BUDYNKÓW**

z dnia: 2017-02-17

Pozycja kartoteki budynków: **KB.81**

Nr ewid.	Nr działki	Adres budynku	1. Rodzaj wg. KŚT: 2. Główna funkcja budynku: 3. Inne funkcje budynku:	Liczba kondygnacji nad/pod ziemią	Rok zakończenia 1. Bud. 2. Przeb.	Nr KW lub inny dok.
33/1;4	33/1	BABIA GÓRA 11 A	1. Budynki produkcyjne usługowe i gospodarcze dla rolnictwa 2. 3.	1/0	1. 2008 2.	

Id budynku: Nr jednostek rejestru gruntów: **G.81**Wartość: **0** ( ) Nr jednostki rejestru budynków:Materiał: **mur** Stan użyt. bud.: St. pewn. ust. daty bud.:

Rej. zabytków: St. pewn. ust. daty przebud.:

Status budynku: Zakres przebudowy:

Klasa wg. PKOB:

Pow. zabud. [m<sup>2</sup>]: **78.00** Data rozbiórki:Pow. użyt. lokali [m<sup>2</sup>]: Przyczyna rozbiórki:

Powierzchnia pom. przyn. lokali: Powierzchnia lokali wyodrębn.:

Powierzchnia lokali niewyodrębn.:

Pow. użyt. z obmiarów: Pow. użyt. ust. na podst. projektu:

Liczba ujawnionych samodzielnych lokali: **0**Liczba wyodrębnionych lokali: **0** Data oddania do użyt.:

Które z podanych informacji dotyczących budynku można odczytać z załączonego fragmentu wypisu z kartoteki budynków?

- A. Budynek został wybudowany w 2008 roku, ma jedną kondygnację nadziemną.
- B. Budynek został przebudowany w 2008 roku, ma jedną kondygnację podziemną.
- C. Budynek posiada funkcje usługową i gospodarczą, ma jedną kondygnację podziemną.
- D. Budynek posiada funkcję mieszkalną jednorodziną, ma jedną kondygnację nadziemną.

**Zadanie 18.**

Którym symbolem literowym oznacza się grunty rolne zabudowane?

- A. B
- B. Ba
- C. Bi
- D. Br

**Zadanie 19.**

Który z wymienionych dokumentów jest podstawą zmiany oznaczenia nieruchomości w księdze wieczystej?

- A. Wypis z rejestru gruntów.
- B. Potwierdzenie zameldowania.
- C. Opinia rzeczoznawcy majątkowego.
- D. Zaświadczenie o płaceniu podatków.

### Zadanie 20.

Jeżeli użytek gruntowy w działce nr 521/1 na mapie ewidencyjnej został oznaczony symbolem literowym S-ŁII, to które z oznaczeń należy wpisać do części opisowej bazy w kolumnie OZK?

- A. S
- B. Ł
- C. II
- D. ŁII

Nr działki ewidencyjnej	Pole powierzchni działki ewid. w ha	Rodzaj użytki i klasa			Pole powierzchni użytków i klas w działce
		OFU	OZU	OZK	
521/1	0,5940				0,5940

### Zadanie 21.

Na podstawie którego z wymienionych dokumentów można wprowadzić zmianę w bazie danych katastru nieruchomości podczas aktualizacji tej bazy?

- A. Wykazu działek ewidencyjnych sporządzonego dla danego obrębu.
- B. Oświadczenia właściciela nieruchomości o oddaniu jej w użyczenie.
- C. Umowy wstępnej kupna-sprzedaży nieruchomości zawartej przez strony.
- D. Wykazu zmian danych ewidencyjnych załączonego do decyzji o podziale nieruchomości.

### Zadanie 22.

Wykonano kalibrację cyfrowego obrazu rastrowego mapy analogowej w skali 1:1000. Na podstawie otrzymanych średnich błędów transformacji oraz fragmentu rozporządzenia określ, która kalibracja wykonana została z prawidłową dokładnością.

- A. 0,37 m
- B. 0,42 m
- C. 0,76 m
- D. 1,00 m

#### § 49 Kalibracja rastrów map analogowych

1. Kalibrację rastrów map analogowych wykonuje się przy wykorzystaniu co najmniej 20 punktów [...] dostosowania z zachowaniem dokładności transformacji wyrażonej błędem średnim transformacji nie większym niż:

- 1) 0,20 m – w przypadku mapy w skali 1:500;
- 2) 0,40 m – w przypadku mapy w skali 1:1000;
- 3) 0,80 m – w przypadku mapy w skali 1:2000;
- 4) 2,00 m – w przypadku mapy w skali 1:5000.

### Zadanie 23.

Wartości skurczu mapy wzdłuż boków ramki sekcyjnej wynoszą odpowiednio:  $p = 0,14\%$  i  $q = 0,22\%$ . Skurcz powierzchniowy tej mapy równy jest

- A. 0,08%
- B. 0,14%
- C. 0,36%
- D. 0,22%

### Zadanie 24.

Które dokumenty mogą być wykorzystane przy odszukiwaniu w terenie punktów granicznych?

- A. Rejestry gruntów.
- B. Wykazy gruntów.
- C. Zarisy pomiarowe.
- D. Skorowidze działek.

**Zadanie 25.**

Położenie punktów granicznych względem najbliższych położonych punktów poziomej osnowy geodezyjnej określa się z dokładnością do

- A. 0,10 m
- B. 0,15 m
- C. 0,20 m
- D. 0,25 m

**Zadanie 26.**

Podczas czynności odszukiwania znaków granicznych działki nr 123 geodeta stwierdził, że jeden ze znaków został przesunięty. Jeżeli istnieje dokumentacja pozwalająca na określenie pierwotnego położenia tego znaku, to geodeta powinien wykonać

- A. tylko scalenie gruntów.
- B. rozgraniczenie nieruchomości.
- C. wznowienie znaków granicznych.
- D. scalenie i podział nieruchomości.

**Zadanie 27.**

W trakcie której z prac geodezyjnych przeprowadza się szacunek porównawczy gruntów?

- A. Wznowienia punktów granicznych.
- B. Rozgraniczenia nieruchomości.
- C. Podziału nieruchomości.
- D. Scalenia gruntów.

**Zadanie 28.**

Uprawniony geodeta może wstrzymać czynności ustalenia przebiegu granicy w postępowaniu rozgraniczeniowym w przypadku usprawiedliwionego niestawiennictwa strony na gruncie maksymalnie na okres

- A. 7 dni.
- B. 14 dni.
- C. 1 miesiąca.
- D. 2 miesięcy.

**Zadanie 29.**

Jeżeli podczas wywiadu terenowego, związanego z przygotowaniem wstępnego projektu podziału geodeta zauważył w terenie szczegóły sytuacyjne, które podlegają pomiarowi i nie są wniesione na mapę, to musi wykonać pomiary

- A. okresowe.
- B. ewidencyjne.
- C. aktualizacyjne.
- D. modernizacyjne.

**Zadanie 30.**

Korzystając z danych zawartych w tabeli, oblicz wartość szacunkową konturu o powierzchni 220 000 m<sup>2</sup>, stanowiącego klasę bonitacyjną IVa.

- A. 11 000 jednostek szacunkowych
- B. 8 360 jednostek szacunkowych.
- C. 1 100 jednostek szacunkowych.
- D. 836 jednostek szacunkowych.

Klasa bonitacyjna	Wartość punktowa 1 ha
I	94
II	85
IIIa	76
IIIb	64
IVa	50
IVb	38
V	20
VI	6
VIz	1

**Zadanie 31.**

Lp.	STAN DOTYCHCZASOWY						STAN NOWY						Uwagi
	Nr działki	Pole pow. działki w ha	Rodzaj użytku i klasa			Pole pow. użytków i klas w działce	Nr działki	Pole pow. działki w ha	Rodzaj użytku i klasa			Pole pow. użytków i klas w działce	
			OFU	OZU	OZK				OFU	OZU	OZK		
01	02	03	04	05	06	07	08	09	10	11	12	13	14
1	12	0,8200	R	R	IVb	0,3200	12/1	0,3200	R	R	IVb	0,3200	-
			R	R	V	0,5000	12/2	0,5000	R	R	V	0,5000	-
Razem stan dotychczasowy		0,8200				0,8200	Razem stan nowy	0,8200				0,8200	-

Zamieszczony wykaz zmian danych ewidencyjnych dotyczących działki nr 12 zawiera dane ustalone w wyniku

- A. scalenia nieruchomości.
- B. podziału nieruchomości.
- C. rozgraniczenia nieruchomości.
- D. wywłaszczenia nieruchomości.

**Zadanie 32.**

Jak nazywa się dokument sporządzony przez geodetę w procedurze podziału nieruchomości?

- A. Protokół przyjęcia granic nieruchomości.
- B. Zestawienie gruntów.
- C. Opinia geodety.
- D. Akt ugody.

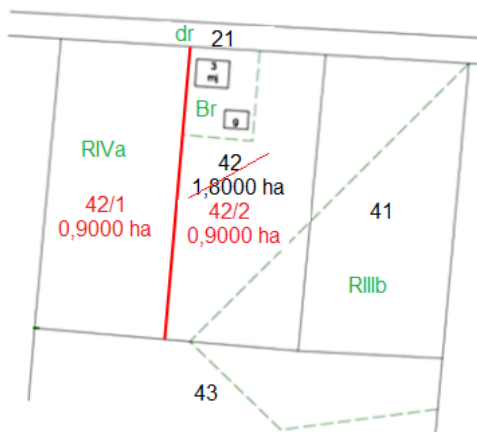
### Zadanie 33.

Która z zasad prowadzenia ewidencji gruntów i budynków zobowiązuje organy prowadzące do sprawdzania zgodności danych ewidencyjnych ze stanem faktycznym i prawnym oraz do wprowadzania wszelkich zaistniałych zmian tych danych?

- A. Jawności.
- B. Aktualności.
- C. Jednolitości.
- D. Wiarygodności.

### Zadanie 34.

MAPA Z PROJEKTEM PODZIAŁU NIERUCHOMOŚCI ROLNEJ



Stan dotychczasowy						
Lp.	Id działki	Pole pow. [ha]	Rodzaj użytku i klasa			Pole pow. użytków i klas w działce [ha]
			OFU	OZU	OZK	
1	060201_1.0001.42	1,8000	Br	R	IVa	0,2000
			R	R	IVa	1,3000
			R	R	IIIb	0,3000

Na podstawie fragmentu mapy z projektem podziału nieruchomości rolnej na dwie działki o jednakowej powierzchni i fragmentu wykazu zmian danych ewidencyjnych wskaż odpowiedni zapis stanu nowego.

Stan nowy					
Nr działki	Pole pow. [ha]	Rodzaj użytku i klasa			Pole pow. użytków i klas w działce [ha]
		OFU	OZU	OZK	
42/1	0,9000	R	R	IVa	0,9000
42/2	1,8000	R	R	IVa	0,2000
		R	R	IVa	0,4000
		R	R	IIIb	0,3000

A.

Stan nowy					
Nr działki	Pole pow. [ha]	Rodzaj użytku i klasa			Pole pow. użytków i klas w działce [ha]
		OFU	OZU	OZK	
42/1	0,9000	R	R	IVa	0,9000
42/2	0,9000	Br	R	IVa	0,2000
		R	R	IIIb	0,3000
		R	R	IVa	0,4000

B.

Stan nowy					
Nr działki	Pole pow. [ha]	Rodzaj użytku i klasa			Pole pow. użytków i klas w działce [ha]
		OFU	OZU	OZK	
42/1	0,9000	R	R	IIIb	0,9000
42/2	0,9000	Br	R	IVa	0,2000
		R	R	IVa	0,7000

C.

Stan nowy					
Nr działki	Pole pow. [ha]	Rodzaj użytku i klasa			Pole pow. użytków i klas w działce [ha]
		OFU	OZU	OZK	
42/1	0,9000	R	R	IVa	0,9000
42/2	0,9000	Br	R	IIIb	0,6000
		R	R	IIIb	0,3000

D.

### Zadanie 35.

Jeżeli podział nieruchomości polega na wydzieleniu działki o powierzchni stanowiącej 20% powierzchni działki podlegającej podziałowi, to protokół z czynności przyjęcia granic nieruchomości podlegającej podziałowi należy sporządzić dla

- A. spornych granic.
- B. wszystkich granic.
- C. odcinków, do których dochodzą projektowane granice.
- D. odcinków, dla których strony nie kwestionują ich przebiegu.

### Zadanie 36.

Jeżeli w księdze wieczystej nieruchomość podlegająca podziałowi posiada inną powierzchnię niż w ewidencji gruntów i budynków, to na mapie z projektem podziału nieruchomości należy umieścić wykaz

- A. powierzchni.
- B. synchronizacyjny.
- C. właścicieli i władających.
- D. zmian danych ewidencyjnych.

### Zadanie 37.

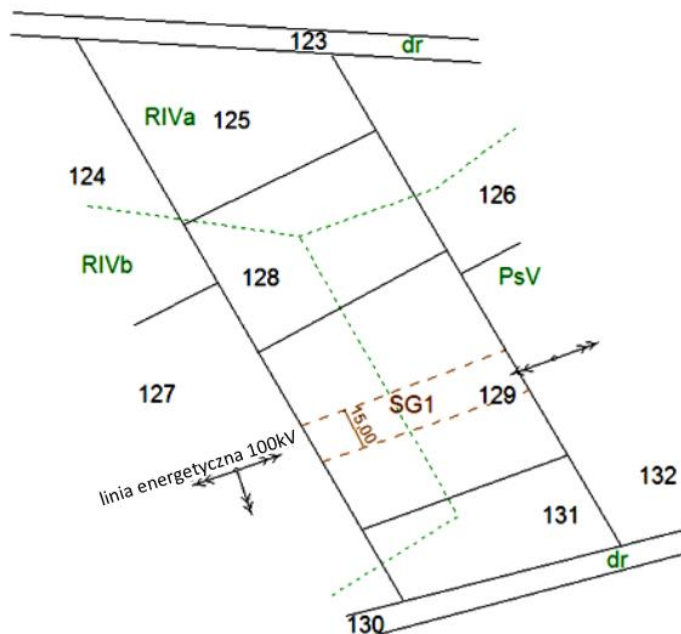
Jakim kolorem należy zaznaczyć treści projektowane na mapie do celów prawnych?

- A. Czerwonym.
- B. Niebieskim.
- C. Brązowym.
- D. Zielonym.

### Zadanie 38.

Który tytuł należy nadać zamieszczonej mapie, sporządzonej do celów prawnych?

- A. Mapa do ustalenia służebności przechodu.
- B. Mapa do ustalenia służebności przejazdu.
- C. Mapa do ustalenia służebności przegonu.
- D. Mapa do ustalenia służebności przesylu.



**Zadanie 39.**

Który z dokumentów stanowi podstawę do wprowadzenia zmian w bazie danych ewidencyjnych w związku z rozgraniczeniem nieruchomości?

- A. Operat techniczny.
- B. Sprawozdanie techniczne.
- C. Zgłoszenie pracy geodezyjnej.
- D. Decyzja o rozgraniczeniu nieruchomości.

**Zadanie 40.**

Protokół przyjęcia granicy nieruchomości należy dołączyć do dokumentacji

- A. z podziału nieruchomości.
- B. z rozgraniczenia nieruchomości.
- C. z wznowienia znaków granicznych.
- D. z wyznaczenia punktów granicznych.