

Nazwa kwalifikacji: **Wykonywanie kompozycji florystycznych**

Oznaczenie kwalifikacji: **RL.26**

Wersja arkusza: **SG**

Czas trwania egzaminu: **60 minut**

RL.26-SG-21.01

EGZAMIN POTWIERDZAJĄCY KWALIFIKACJE W ZAWODZIE

Rok 2021

CZĘŚĆ PISEMNA

**PODSTAWA PROGRAMOWA
2017**

Instrukcja dla zdającego

1. Sprawdź, czy arkusz egzaminacyjny zawiera 10 stron. Ewentualny brak stron lub inne usterki zgłoś przewodniczącemu zespołu nadzorującego.
2. Do arkusza dołączona jest KARTA ODPOWIEDZI, na której w oznaczonych miejscach:
 - wpisz oznaczenie kwalifikacji,
 - zamaluj kratkę z oznaczeniem wersji arkusza,
 - wpisz swój numer PESEL*,
 - wpisz swoją datę urodzenia,
 - przyklej naklejkę ze swoim numerem PESEL.
3. Arkusz egzaminacyjny zawiera test składający się z 40 zadań.
4. Za każde poprawnie rozwiązane zadanie możesz uzyskać 1 punkt.
5. Aby zdać część pisemną egzaminu musisz uzyskać co najmniej 20 punktów.
6. Czytaj uważnie wszystkie zadania.
7. Rozwiązania zaznaczaj na KARCIE ODPOWIEDZI długopisem lub piórem z czarnym tuszem/atramentem.
8. Do każdego zadania podane są cztery możliwe odpowiedzi: A, B, C, D. Odpowiada im następujący układ kratek w KARCIE ODPOWIEDZI:

A	B	C	D
---	---	---	---

9. Tylko jedna odpowiedź jest poprawna.
10. Wybierz właściwą odpowiedź i zamaluj kratkę z odpowiadającą jej literą – np., gdy wybrałeś odpowiedź „A”:

<input checked="" type="checkbox"/>	B	C	D
-------------------------------------	---	---	---

11. Staraj się wyraźnie zaznaczać odpowiedzi. Jeżeli się pomylisz i błędnie zaznaczysz odpowiedź, otocz ją kółkiem i zaznacz odpowiedź, którą uważasz za poprawną, np.

<input checked="" type="checkbox"/>	B	C	<input checked="" type="checkbox"/>
-------------------------------------	---	---	-------------------------------------

12. Po rozwiązaniu testu sprawdź, czy zaznaczyłeś wszystkie odpowiedzi na KARCIE ODPOWIEDZI i wprowadziłeś wszystkie dane, o których mowa w punkcie 2 tej instrukcji.

Pamiętaj, że oddajesz przewodniczącemu zespołu nadzorującego tylko KARTĘ ODPOWIEDZI.

Powodzenia!

* w przypadku braku numeru PESEL – seria i numer paszportu lub innego dokumentu potwierdzającego tożsamość


Zadanie 1.

Do wykonania której kompozycji najlepiej zastosować złociszki, kocanki i kwiatostany traw?

- A. Palmy wileńskiej.
- B. Bukietu ślubnego.
- C. Wianka komunijnego.
- D. Wieńca adwentowego.

Zadanie 2.

Na którym rysunku przedstawiono liść fatsji japońskiej?



Zadanie 3.

Który środek techniczny jest przeznaczony do zamocowania gąbki florystycznej w płaskim pojemniku?

- A. Kenzan.
- B. Pinholder.
- C. Candleholder.
- D. Siatka miedziana.

Zadanie 4.

Które rośliny mają liście o strukturze flauszowej?

- A. Koleus i magnolia.
- B. Czyściec i szarotka.
- C. Begonia i helikonia.
- D. Czyściec i winobluszcz.

Zadanie 5.

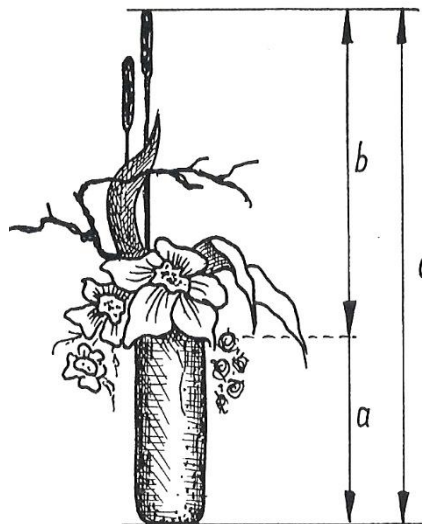
Która czynność przedłuża trwałość kwiatów lewkonii letniej?

- A. Usunięcie pylników.
- B. Zbiór wraz z korzeniami.
- C. Wstawienie do zimnej wody.
- D. Zbiór w stadium niewybarwionych pąków.

Zadanie 6.

Na rysunku przedstawiono kompozycję wykonaną zgodnie z zasadą złotego podziału. Ile wynosi jej wysokość (c), jeśli $a = 30$ cm?

- A. 50 cm
- B. 60 cm
- C. 80 cm
- D. 110 cm



Zadanie 7.

Które elementy musi zawierać rysunek techniczny stanowiący część dokumentacji projektowej?

- A. Legendę i wymiary kompozycji podane w skali.
- B. Legendę, skalę i wymiary rzeczywiste kompozycji.
- C. Legendę z podaną ilością poszczególnych elementów i skalę.
- D. Legendę z podaną ilością poszczególnych elementów i wymiary rzeczywiste kompozycji.

Zadanie 8.

W kompozycji o kolorach komplementarnych, kwiaty żółte należy połączyć

- A. z czerwonymi w stosunku $\frac{1}{4}$ do $\frac{3}{4}$.
- B. z fioletowymi w stosunku $\frac{1}{4}$ do $\frac{3}{4}$.
- C. z czerwonymi w stosunku $\frac{1}{2}$ do $\frac{1}{2}$.
- D. z fioletowymi w stosunku $\frac{1}{2}$ do $\frac{1}{2}$.




Zadanie 9.

Przedstawiona na rysunku roślina to

- A. *Lilium*.
- B. *Hippeastrum*.
- C. *Alstroemeria*.
- D. *Ornithogalum*.



Zadanie 10.

Dozowanie odżywki do kwiatów ciętych		
		
< 0,5 l	0,5 l	1,0 l
3,5 g 3,5 ml	5,0 g 5,0 ml	10,0 g 10,0 ml

Na podstawie zamieszczonej informacji oblicz, ile saszetek zawierających 5 ml żelu należy rozpuścić w 1,5 l wody.

- A. 1 saszetkę.
- B. 2 saszetki.
- C. 3 saszetki.
- D. 4 saszetki.

Zadanie 11.

Które rośliny są przydatne do wykonania wianka komunijnego?

- A. *Aspidistra* wyniosła, bluszcz pospolity i funkia.
- B. *Bergenia* sercolistna, eukaliptus i mahonia pospolita.
- C. Barwinek pospolity, golteria shallon i sagowiec.
- D. Szparag modrzewiowy, mirt pospolity i ruszczyk.

Zadanie 12.

Który zestaw środków technicznych nadaje się do wykonania wieńca rzymskiego ze stroiszu?

- A. Wianek ze słomy i drut na kołku.
- B. Wianek z wikliny i haftki rzymskie.
- C. Ring ze styropianu i plastelina florystyczna.
- D. Ring z gąbki do żywych roślin i drut wyrobowy.

Zadanie 13.

Florysta otrzymał zamówienie na letni bukiet okolicznościowy. Który zestaw roślin powinien wybrać?

- A. Cynie, dalie i lwie paszcze.
- B. Jaskry, niezapominajki i tulipany.
- C. Chryzantemy, nawłocie i zatrwany.
- D. Ciemierniki, dereń biały i poinsecje.

Zadanie 14.

Które rośliny balkonowe sadzi się przy podporach?

- A. Fuksję i petunię ogrodową.
- B. Kobeę i groszek pachnący.
- C. Begonię bulwiastą i werbenę.
- D. Lobelię i pelargonię bluszczolistną.

Zadanie 15.

Który zestaw roślin nadaje się do aranżacji okna o wystawie północnej?

- A. Aloes, azalia i kordylina.
- B. Bugenwilla, kalanchoe i nolina.
- C. Begonia królewska, bluszcz i fitonia.
- D. Eszeweria, fiołek afrykański i męczennica.

Zadanie 16.

Które pojemniki najlepiej nadają się do wnętrz barokowych?

- A. Słoje aptekarskie i gliniane konwie.
- B. Ceramiczne amfory i wiklinowe kosze.
- C. Alabastrowe urny i ciężkie porcelanowe wazony.
- D. Rogi obfitości i porcelanowe naczynia o etruskiej ornamentyce.

Zadanie 17.

Na rysunku przedstawiono wieniec, którym w starożytności nagradzano zwycięzców igrzysk. Do jego wykonania zastosowano

- A. rozmaryn.
- B. oliwkę.
- C. mirt.
- D. laur.



Zadanie 18.

Który środek techniczny najlepiej wybrać do wykonania niewielkiej dekoracji zawieszanej na brzegu ławki kościelnej?

- A. Clip.
- B. Floret.
- C. Garnet.
- D. Mikrofon.

Zadanie 19.



Który zestaw narzędzi, poza nożem i sekatorem, należy zastosować do wykonania kompozycji przedstawionej na rysunku?

- A. Nożyczki, obcęgi i taker.
- B. Cążki, kombinerki i obcęgi.
- C. Cążki, nożyczki i szczypce półokrągłe.
- D. Kombinerki, szczypce półokrągłe i taker.

Zadanie 20.

„... na liściach w miejscach nakłóć widoczne są drobne jasne plamki. Żeruje masowo, głównie na najmłodszych częściach rośliny, powodując ich deformację i zahamowanie wzrostu.”

Opis zamieszczony w ramce dotyczy

- A. mszyc.
- B. chrząszczy.
- C. miseczników.
- D. przędziorków.

Zadanie 21.

Do zwalczania mączniaka prawdziwego i fuzariozy stosuje się

- A. herbicydy.
- B. fungicydy.
- C. akarycydy.
- D. nematocydy.

Zadanie 22.

Przenawożenie azotem w trakcie uprawy skutkuje

- A. chlorozą międzyżyłkową na starszych liściach.
- B. zahamowaniem wzrostu rośliny i jasnozielonym zabarwieniem liści.
- C. zasychaniem brzegów liści i obniżeniem odporności na niekorzystne warunki.
- D. wybujałym wzrostem rośliny, opóźnieniem kwitnienia i skróceniem trwałości pozbiorniczej.

Zadanie 23.

Do wybielania szyszek modrzewia stosuje się

- A. boraks.
- B. glicerynę.
- C. perhydrol.
- D. krzemionkę.

Zadanie 24.

W jaki sposób należy suszyć rośliny przeznaczone do wykonania płaskiego kolażu?

- A. Na siatce.
- B. Metodą zielarską.
- C. Metodą zielnikową.
- D. W pozycji naturalnej.

Zadanie 25.

Trwałość słoneczników, które na skutek transportu bez dostępu do wody utraciły turgor, można poprawić stosując

- A. zaparzanie.
- B. watowanie.
- C. szynowanie.
- D. woskowanie.

Zadanie 26.

Która taśma stosowana jest w technice watowania?

- A. Kotwica.
- B. Maskująca.
- C. Plastelinowa.
- D. Antypoślizgowa.

Zadanie 27.

Stosowanie kleju do żywych roślin wymaga szczególnych środków ostrożności ze względu na

- A. toksyczne opary.
- B. szybkie schnięcie.
- C. możliwość poparzenia.
- D. możliwość porażenia prądem.

Zadanie 28.

Na zieloną ścianę w holu hotelowym o umiarkowanym oświetleniu najlepiej zastosować

- A. anturium, dracenę wonną i hoję.
- B. epipremnum, nefrolepis i zielistkę.
- C. kalanchoe, skrzydłokwiat i szeflerę.
- D. alokazję, figowca sprężystego i eszewerię.

Zadanie 29.

W celu przyciągnięcia uwagi zwiedzających do dekoracji stoiska wystawowego najlepiej przeznaczyć dobrze widoczne kwiaty w kolorze

- A. białym.
- B. bordowym.
- C. niebieskim.
- D. pomarańczowym.

Zadanie 30.

Zgodnie ze sztuką w zawodzie wykonany bukiet spiralny charakteryzuje

- A. promienisty układ łodyg i wiązanie pojedyncze.
- B. równoległy układ łodyg i wiązanie pojedyncze.
- C. promienisty układ łodyg i wiązanie podwójne.
- D. równoległy układ łodyg i wiązanie podwójne.

Zadanie 31.

Wskaż cechy wykonanej zgodnie ze sztuką w zawodzie kompozycji florystycznej w stylu formalno-linearnym.

- A. Materiał roślinny silnie przycięty i ciasno ułożony, kształt kompozycji odzwierciedlający kształt podkładu.
- B. Dobór roślin występujących obok siebie w naturze, zachowanie ich wzajemnych proporcji i naturalnego charakteru wzrostu.
- C. Mała ilość materiału roślinnego, dobór roślin o oryginalnych i kontrastowych kształtach i liniach, wolna przestrzeń między roślinami.
- D. Bogactwo materiału, brak wolnej przestrzeni między roślinami, drobne lub nierozwinięte kwiaty umieszczane na obrzeżach kompozycji.

Zadanie 32.

Na suche i słoneczne stanowisko najlepiej polecić

- A. epifity.
- B. higrofity.
- C. hydrofity.
- D. sukulenty.

Zadanie 33.

W przypadku których roślin sprzedawca powinien poinformować klienta o ich trujących lub silnie drażniących właściwościach, stanowiących zagrożenie dla życia lub zdrowia?

- A. Aloesu i opuncji.
- B. Lauru i rozmarynu.
- C. Difenbachii i oleandra.
- D. Dzbanecznika i rosiczki.

Zadanie 34.

Które rodzaje wyrobów florystycznych wykonywane są jako dekoracje pogrzebowe?

- A. Pnącze i wianek.
- B. Naręczce i wodospad.
- C. Korsarz i wiązanka angielska.
- D. Poduszka i wieniec warszawski.

Zadanie 35.

Który składnik należy dodać do podłoża w uprawie roślin balkonowych, aby ograniczyć częstotliwość ich podlewania?

- A. Torf.
- B. Glinę.
- C. Hydrożel.
- D. Keramzyt.

Zadanie 36.

Skrócenie trwałości bukietu z róż, lwich paszczy i chryzantem gałązkowych nastąpi po

- A. skośnym podcięciu pędów.
- B. pozostawieniu uszkodzonych liści.
- C. umieszczeniu w niskiej temperaturze powietrza.
- D. zastosowaniu preparatów pochłaniających etylen.

Zadanie 37.

Który zakres temperatury jest odpowiedni do przechowywania kwiatów anturium?

- A. $0 \div 3^{\circ}\text{C}$
- B. $5 \div 8^{\circ}\text{C}$
- C. $13 \div 15^{\circ}\text{C}$
- D. $18 \div 21^{\circ}\text{C}$

Zadanie 38.

W jaki sposób należy przechowywać wianek z białych róż, aby maksymalnie wydłużyć jego trwałość?

- A. Owinięty zwilżoną bibułą, w chłodni o temperaturze $4 \div 6^{\circ}\text{C}$
- B. Całkowicie zanurzony w misce z wodą, w chłodni o temperaturze $4 \div 6^{\circ}\text{C}$
- C. W kartonowym pudełku, w suchym pomieszczeniu o temperaturze $10 \div 15^{\circ}\text{C}$
- D. Opakowany celofanem, w wilgotnym pomieszczeniu o temperaturze $10 \div 15^{\circ}\text{C}$

Zadanie 39.

Którym materiałem należy zabezpieczyć bukiet okolicznościowy na czas transportu w upalny dzień?

- A. Kryzą z krepiny.
- B. Kryzą z organzy.
- C. Cienkim papierem.
- D. Tekturowym papierem.

Zadanie 40.

Które kwiaty producenci pakują do pudełek i zabezpieczają fiolkami z wodą?

- A. Eustomy i róże.
- B. Anturia i storczyki.
- C. Gipsówki i goździki.
- D. Chryzantemy i piwonie.